

Matematička

Slikovnica



Napisaó i ilustriraó: Roko Franíć

19.4.2022.

ZD 5. razred


1.

Ivica danas ima rođendan. Baka mu je dala 109 kn i 0.9 lp, a roditelji su mu dali 109 kn i 9 lp. Tko mu je dao više?

2.


Marica je radila zadatak iz matematike, i zopela je na 10. zadataku u kojem je pisalo: napiši broj riječima. Možeš li joj ti pomoći?

189123



3) Lisica ima 63891 pirula. Izgubio ih je 28881.
Koliko mu je ostalo?

4) Lisica je brojala drveća u šumi i nabrojala je 2863 drveća javora i nešto kasnije našla je još i 1896 drveća lipe.
Koliko je drveća nabrojala ukupno?




3.

5

Marko je izračunao da 1 školski dan traje
4h i 20 min. Preračunaj u minute!

6

Marija je izračunala da je njena igračka
duga 5m i 12cm. Preračunaj u cm.

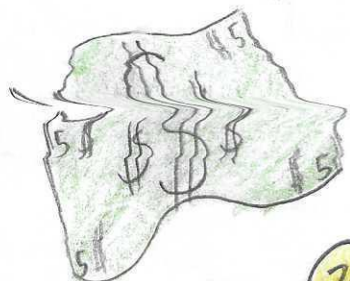


7

Marin je uštedio 151.900 lp. Otišao je u banku
i promijenio je lipe u kune. Šta misliš koliko
je kuna dobio.

8

Ivica je u svom životu zabio 6668 golova, a nje gov
mladi brat 5679 a njegov tata 8891. Koliko
su golova zabili zajedno?




9.

Roko je skupio 56196 autograma, a Fran 9 puta manje. Koliko je autograma skupio Fran?

1a

Marko u kolekciji ima 1998 novčanica, a njegov ujak 9 puta više. Koliko novčanica ima Markov ujak?



11. Duro nije mogao izračunati koliko je 1 desetina sata. Ti mu pomogni.


12. Ivica nije bio dobar u školi pa mu je učiteljica rekla da za kaznu mora preračunati 6l i 7dl u dl. Možeš li mu ti pomoći?



13.

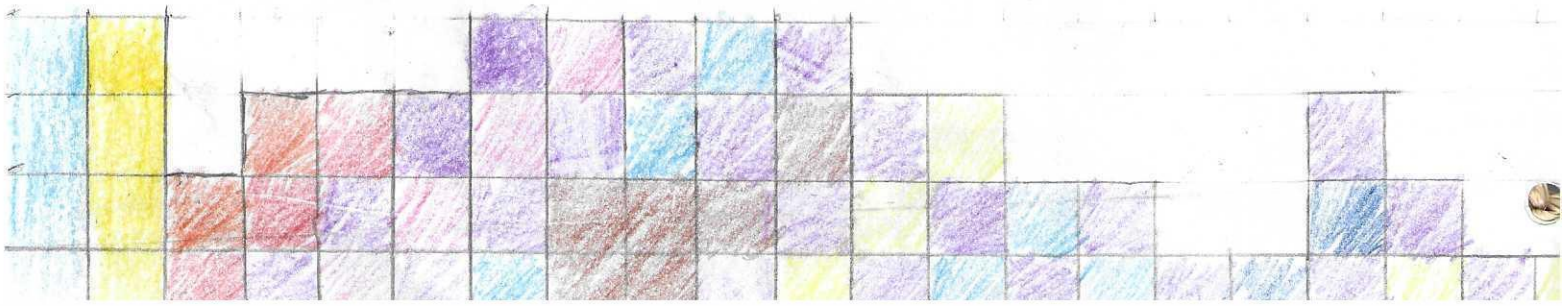
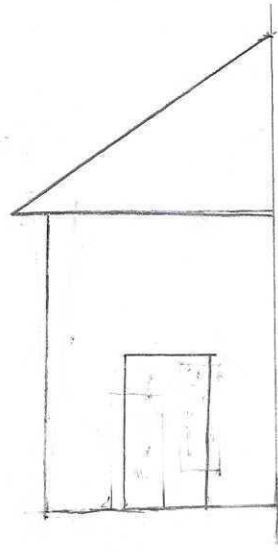
a) 1 euro vrijedi 7 kuna. Koliko onda euro vrijedi 128109 kuna?

b) 7 Kuna = 1€. Koliko kuna vrijedi 188909€?



14

Darkov tata gradi kvću. Na nacrtima je nacrtana samo 1 strana kvće. Pomozí Darkovom tati i dovrši nacrt koristeći osnu simetriju.



Odgovori

1. Roditelji su mu dali više novca.

2. Sto osamdeset devet tisuća sto dvadeset tri

3. 35010 4. 4759 5. 260 min 6. 512cm 7. 1.519 8. 2120

9. 6244 10. Markov ujak ima 17982 novčanica
11. 21.29 =

11. 6 min 12. 67d1 13. a) 18301,28 € b) 1322 363 kn -

14

